






# Daten und Tabellen



1

				
Gebirge	Bücherei	Schwimmbad	Kino	Meer

Wie viele Kinder waren im Gebirge? 5




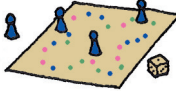



Wie viele Kinder waren in der Bücherei? \_\_\_\_\_

Wie viele Kinder waren im Schwimmbad? \_\_\_\_\_

Wie viele Kinder waren im Kino? \_\_\_\_\_

Wie viele Kinder waren am Meer? \_\_\_\_\_

2

					
	Autos	Teddys	Bücher	Spiele	Bälle
					
					

Wie viele Autos hat ? \_\_\_\_\_ Wie viele Bälle hat ? \_\_\_\_\_

Wie viele Spiele haben  und  zusammen? \_\_\_\_\_

Stellt euch gegenseitig Fragen zur Tabelle.

